

# Les échelles

5°

J'applique mes connaissances :

Complète le tableau de proportionnalité :

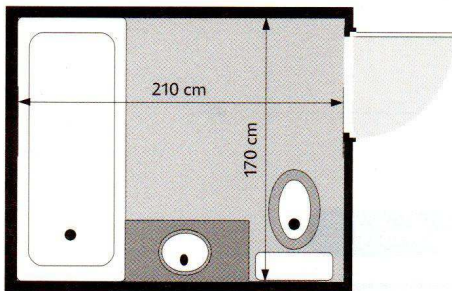
Dimension mesurée sur le dessin	13	1		5		10
Dimension mesurée sur le plan	130		150		200	

Complète le tableau

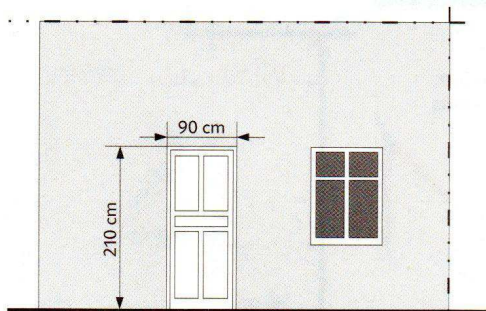
Dimension dessinée	Dimension réelle	Echelle
	90	1/3
50	100	
90	90	
	550	1/10
10		1/20
50		1/1000
	100	1/4

## Retrouver une échelle

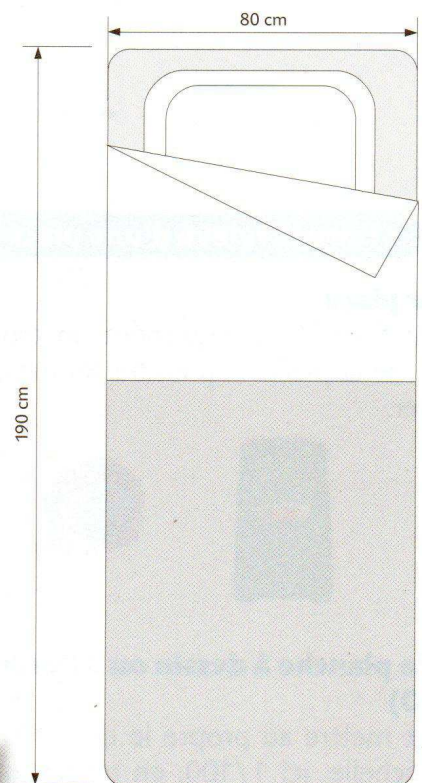
À quelles échelles ont été réalisés les dessins ci-dessous? **Mesure** une dimension sur le plan et **compare** avec la cote correspondante. **Déduis-en** l'échelle.



Échelle : \_\_\_\_\_



Échelle : \_\_\_\_\_



Échelle : \_\_\_\_\_